

Exercício nº 452

Na Figura 7, está representado o prisma triangular $[ABCDEF]$

Sabe-se que:

- o quadrilátero $[BCDE]$ é um quadrado;
- o triângulo $[ABC]$ é rectângulo em A

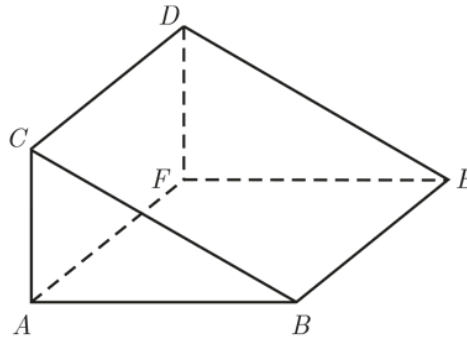
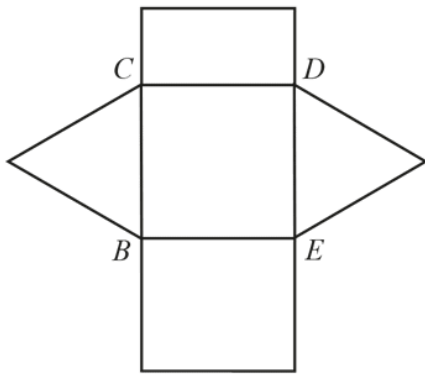


Figura 7

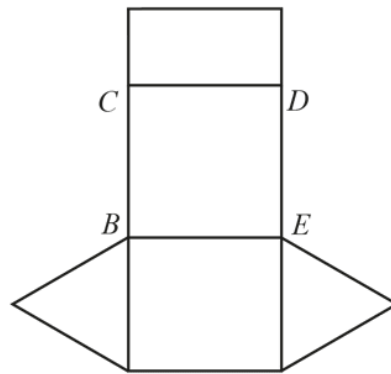
Qual das opções seguintes apresenta uma planificação reduzida do prisma $[ABCDEF]$?

Assinala a opção correcta.

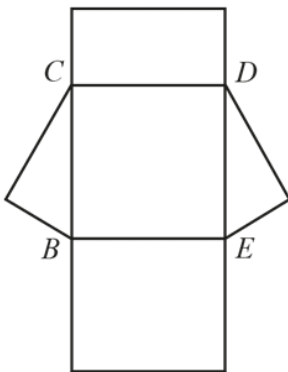
A



B



C



D

