

Exercício nº 465

Na Figura 7, está representado um recipiente com tinta. Nesse recipiente mergulhou-se um cubo branco, tal como se ilustra na Figura 8. Desta forma, a parte do cubo que ficou submersa adquiriu a cor da tinta.

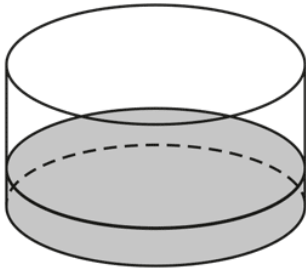


Figura 7

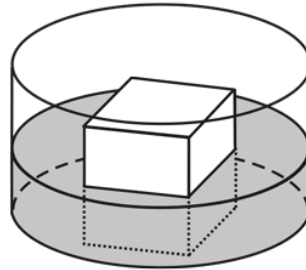
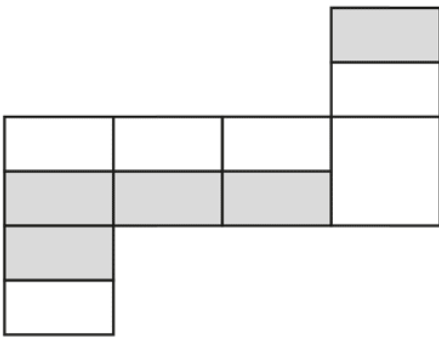


Figura 8

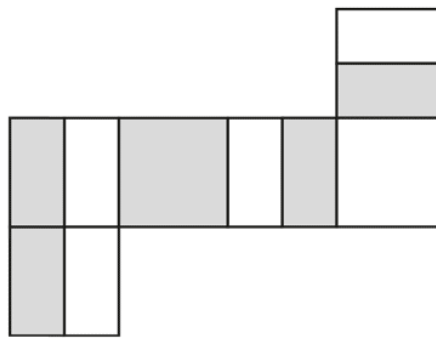
Em qual das opções seguintes pode estar uma planificação desse cubo depois de retirado do recipiente?

Assinala a opção correta.

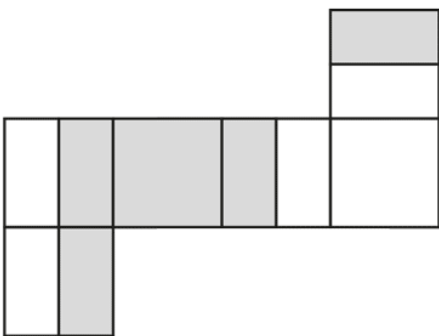
A



B



C



D

