

Exercício nº 393

Nas figuras 1 e 2, podes observar o mesmo dado em duas posições distintas.



Figura 1


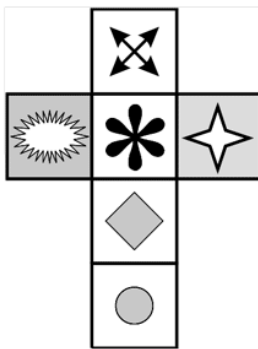


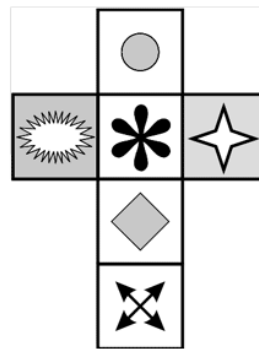
Figura 2

Qual das quatro planificações seguintes é uma planificação desse dado?

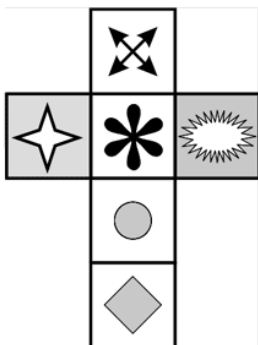
A Planificação A



B Planificação B



C Planificação C



D Planificação D

