
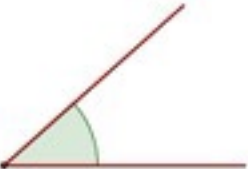
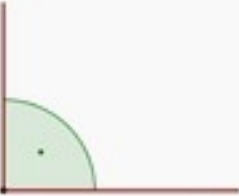


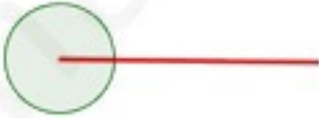

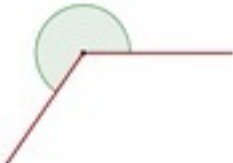


Nome	Imagem	Descrição
Ângulo Nulo		Corresponde a um ângulo cuja amplitude é de 0° .
Ângulo Agudo		Corresponde a um ângulo cuja amplitude se situa entre os 0° e os 90° .
Ângulo Reto		Corresponde a um ângulo cuja amplitude é exatamente 90° .
Ângulo Obtuso		Corresponde a um ângulo cuja amplitude se situa entre os 90° e os 180° .
Ângulo Raso		Corresponde a um ângulo cuja amplitude é exatamente 180° .
Ângulo Giro		Corresponde a um ângulo cuja amplitude é exatamente 360° .
Ângulo Convexo		Ângulo que possui menos de 180° . Isto é, a parte interna do ângulo é maior que a parte externa.
Ângulo Côncavo		Ângulo que possui mais de 180° . Isto é, a parte interna do ângulo é menor que a parte externa.