



Teste Intermédio

Matemática

2.º Ano de Escolaridade

Duração do Teste: 45 min (**CADERNO 1**) + 30 min (pausa) + 45 min (**CADERNO 2**) | 05.06.2012

Nome do aluno: _____

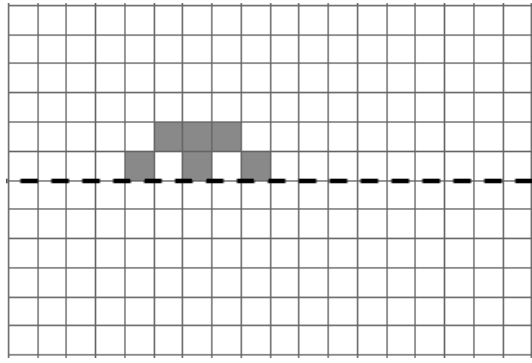
Assinatura do professor: _____

Assinatura do encarregado de educação: _____

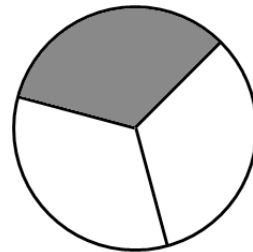
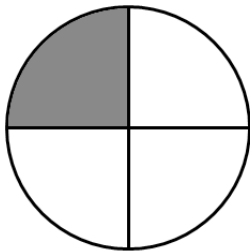
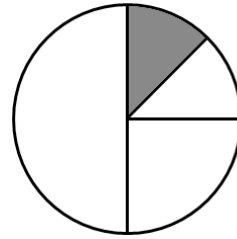
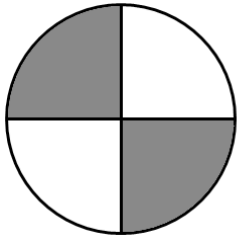
Apreciação global:

CADERNO 2

9. Completa o desenho, considerando a linha tracejada como eixo de simetria de reflexão da figura a cinzento.



10. Assinala com **X** a opção em que $\frac{1}{4}$ da figura está pintada a cinzento.



11. No parque de estacionamento do museu, há motos, de duas rodas, e carros, de quatro rodas.

O André disse: – *Vejo 9 veículos e 28 rodas.*

Escreve nas etiquetas quantas motos e quantos carros estão no parque de estacionamento.

Explica como chegaste à tua resposta.

Resposta: carros

motos

12. Assinala com **X** o número que completa corretamente a igualdade seguinte.

$$74 + \underline{\quad} = 101$$

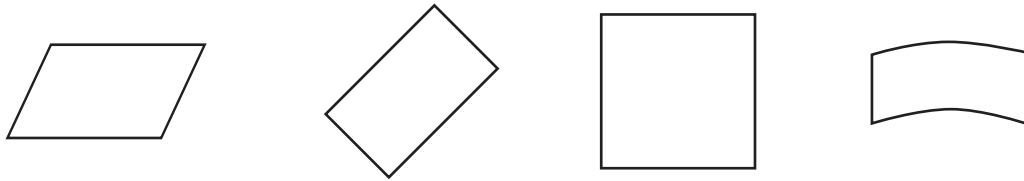
175

37

27

25

13. Pinta com o lápis amarelo as figuras que são retângulos.



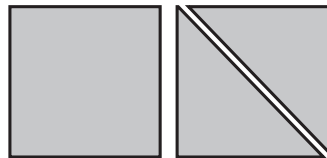
14. Quando a Ana fez 4 anos, a Inês fez 10 anos.

Quando a Ana fizer 9 anos, quantos anos fará a Inês?

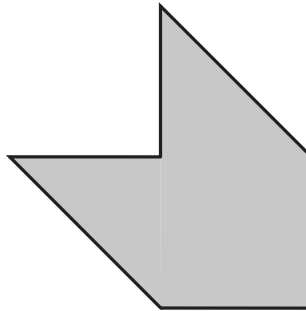
Explica como chegaste à tua resposta.

Resposta: _____

15. Na loja do museu, o André comprou um *puzzle* com três peças como as seguintes.



Com estas três peças, o André construiu a figura seguinte.



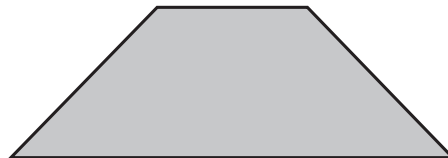
15.1. Que figura construiu o André?

Assinala com **X** a opção correta.

- Um triângulo. Um retângulo.
 Um pentágono. Um hexágono.

15.2. Traça linhas, no interior da figura construída pelo André, de modo que se vejam as três peças utilizadas na sua construção. Utiliza a régua para traçar as linhas.


15.3. A Inês construiu, com as mesmas três peças do *puzzle*, a figura seguinte.



Assinala com **X** a opção correta.

- A área da figura construída pelo André é maior do que a área da figura construída pela Inês.
 A área da figura construída pelo André é igual à área da figura construída pela Inês.
 A área da figura construída pelo André é menor do que a área da figura construída pela Inês.

16. O André separou alguns sólidos, colocando-os em duas mesas, como podes observar na figura seguinte.



Em que mesa o André irá colocar o sólido que tem nas mãos?

Resposta: _____

Explica a tua resposta.

FIM DO TESTE