



Teste Intermédio

Matemática

2.º Ano de Escolaridade

Duração do Teste: 45 min (CADERNO 1) + 30 min (pausa) + 45 min (CADERNO 2) | 31.05.2013

Nome do aluno: _____

Assinatura do professor: _____

Assinatura do encarregado de educação: _____

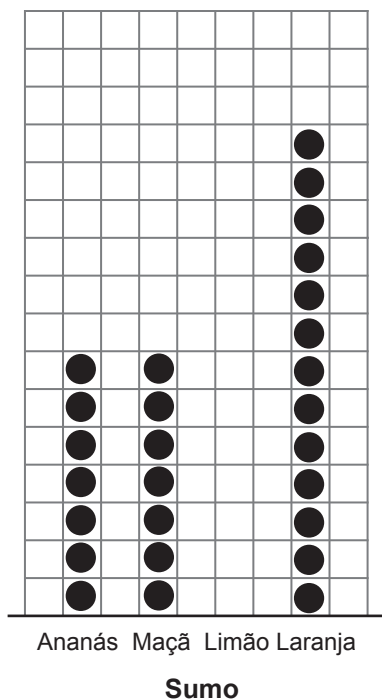
Apreciação global:

CADERNO 2

10. No lanche da escola, foram servidos, no total, 30 sumos de quatro sabores diferentes.

No gráfico de pontos abaixo, falta apenas registar a informação sobre o sumo menos servido.

Distribuição, por sabor, dos sumos servidos



10.1. Desenha, no gráfico acima, os pontos relativos ao sumo de limão.

10.2. Qual foi o sumo mais servido no lanche da escola?

Resposta: _____

11. O José subtraiu a 700 um número. Obteve uma diferença maior do que 200.

Assinala com **X** o número que o José pode ter subtraído a 700.

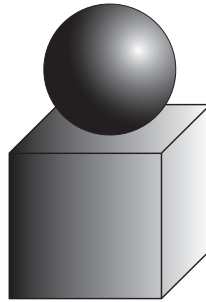
300

500

700

900

12. Observa a construção que a Ana fez com dois sólidos geométricos.



Assinala com **X** o nome dos sólidos geométricos que a Ana utilizou.


Um círculo e um quadrado.

Um círculo e um cubo.

Uma esfera e um quadrado.

Uma esfera e um cubo.

13. No jogo da caça ao tesouro, havia 4 grupos, cada um com 10 alunos.



Os mesmos alunos também participaram no jogo do salto à corda. Para este jogo, formaram-se 8 grupos, cada um com igual número de elementos.

Quantos alunos tem cada grupo do salto à corda?

Explica como chegaste à tua resposta.

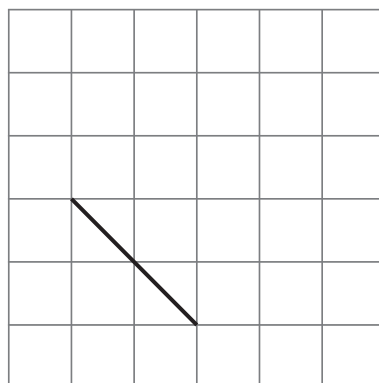
Resposta: _____

14. A Ana vai desenhar um quadrado.

Na grelha quadriculada abaixo, já está representado um dos lados desse quadrado.

Completa, na grelha, esse quadrado.

Utiliza a régua.



15. Calcula $377 - 99$.

Explica como chegaste à tua resposta.

Resposta: _____

16. O José adicionou uma centena a 642.

Assinala com **X** o número que o José obteve.

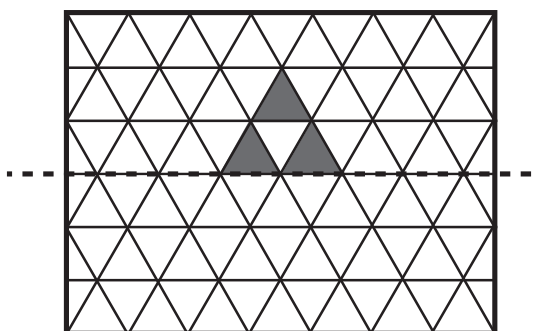
643

652

742

753

17. Completa o desenho, considerando a linha tracejada como eixo de simetria de reflexão da figura a cinzento.



18. Lê o que dizem a Ana e o José.

Só tenho moedas de 1 euro
e tenho tantas moedas como tu.

Só tenho moedas de 2 euros
e juntos temos 12 euros.



Ana



José

Quantas moedas tem cada um?

Explica como chegaste à tua resposta.

Resposta: _____

FIM DO TESTE