

**PROPOSTA DE RESOLUÇÃO DA PROVA DE
MATEMÁTICA APLICADA ÀS CIÊNCIAS SOCIAIS DO ENSINO SECUNDÁRIO
(CÓDIGO DA PROVA 835) – 2ª FASE – 25 DE JULHO 2022**

1.

1.1.

De acordo com a figura 1, o preenchimento da tabela 1 fica:

Votos Preferência	3	4	4	6	6	7
1. ^a	A	A	B	B	C	C
2. ^a	B	C	A	C	B	A
3. ^a	C	B	C	A	A	B

Seguindo os passos do método indicado, acompanhado da leitura da tabela, em cada par de candidatos considerado vamos calcular o número de votos obtido por cada um dos candidatos, indicando o vencedor desse par:

Par			Vencedor do Par
A, B	A: 3+4+7=14 votos	B: 4+6+6=16 votos	B
A, C	A: 3+4+4=11 votos	C: 6+6+7=19 votos	C
B, C	B: 3+4+6=13 votos	C: 4+6+7=17 votos	C

O candidato C foi quem venceu todas as comparações com os restantes, logo é o vencedor da eleição e, portanto, o novo diretor do parque de campismo.

1.2.

Para determinar $P(R|S)$ podemos pensar que queremos determinar a probabilidade do acontecimento R, sabendo que já ocorreu o acontecimento S.

O conhecimento da ocorrência do acontecimento S reduz os casos possíveis a 11, porque com o candidato A na segunda preferência há $4+7=11$ votos. Destes 11 votos, apenas 4 votos têm o candidato B na primeira preferência pelo que apenas 4 votos são favoráveis ao acontecimento R.

$$\text{Assim } P(R|S) = \frac{4}{11}$$

Resposta: **Opção A**

2.

Ordem aleatória: Manuel, Tomás, Lara, Vasco e Paula

Seguindo os passos do método indicado, acompanhado da leitura das informações sobre o que se passou durante o processo de partilha temos:

- como a segunda volta se iniciou com a Lara, então o Tomás ficou com a 1ª parcela pois era quem estava antes da Lara, e saiu da partilha logo na 1ª volta, pelo que nunca pode ter iniciado qualquer volta. Assim Tomás corresponde a (1) e (7).

- como na segunda volta a parcela foi atribuída ao Vasco e ele estava logo a seguir à Lara, então mais ninguém retificou e ele saiu na 2ª volta. Como era a Paula que estava a seguir ao Vasco, então a Paula foi quem na 2ª volta se pronunciou logo a seguir a quem retificou, e também quem inicia a 3ª volta. Assim, Paula corresponde já a (2) e (3).

- como na terceira volta houve retificações por parte de dois responsáveis e é a Paula que inicia a 3ª volta, então quem retificou foi o Manuel seguido da Lara. A Lara por ser a última a retificar fica com a 3ª parcela, e sai. Assim, Lara corresponde a (4) e (5).

Como no final restam a Paula e o Manuel, tendo o Manuel retificado na 3ª volta e a Paula nunca retificou, então Paula corresponde também a (6).

Resumindo, fica:

Lara	(4) e (5)
Paula	(2), (3) e (6)
Tomás	(1) e (7)

3.

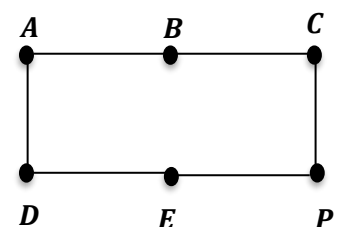
Os vértices A, B, C, D e E representam os cinco ecopontos e o vértice P o portão do parque.

As arestas representam as distâncias entre ecopontos e ecopontos e portão.

Na aplicação do algoritmo, escolhemos as arestas por ordem crescente dos seus pesos e em simultâneo vamos desenhando o grafo, pois fica mais fácil de visualizar as situações que não podem ocorrer - três arestas a incidir no mesmo vértice e percursos fechados que não incluam todos os vértices.

Arestas e pesos	
AB: 310m	Sim
AD: 365m	Sim
CP: 366m	Sim
EP: 380m	Sim
AP: 395m	Não, porque o vértice A fica com 3 arestas
BD: 400m	Não, porque forma circuito sem todos os vértices
BC: 550m	Sim
AC: 600m	Não, porque forma circuito sem todos os vértices
DE: 605m	Sim e fecha o circuito com todos os vértices

Grafo



Ordenação crescentes das arestas escolhidas: AB, AD, CP, EP, BC, DE

Possível circuito pretendido: P-C-B-A-D-E-P ou o circuito inverso P-E-D-A-B-C-P

4.

Total de pessoas= 140

8 *bungalows* M levam $8 \times 4 = 32$ pessoas e custa por dia $8 \times 80 = 640\text{€}$

10 *bungalows* G levam $10 \times 6 = 60$ pessoas e custa por dia $10 \times 100 = 1000\text{€}$

Faltam alojar nas tendas $140 - 32 - 60 = 48$ pessoas

12 tendas para 48 pessoas custa por dia $12 \times 6,5 + 48 \times 5,5 = 78 + 264 = 342\text{€}$

Preço total pago pela empresa = $640 + 1000 + 342 = 1982\text{€}$

Lucro do parque de campismo= $0,25 \times 1982 = 495,50\text{€}$

5.

5.1.

Temos que o número aproximado de peixes da espécie A existentes no lago:

• três anos após o início do ano 2000 era $A(3) = \frac{20}{1+99e^{-0,8 \times 3}} \approx 2,00379$ centenas

• seis anos após o início do ano 2000, era $A(6) = \frac{20}{1+99e^{-0,8 \times 6}} \approx 11,02083$ centenas

Assim, neste período, o aumento foi de $11,02083 - 2,00379 = 9,01704$ centenas de peixes a que corresponde um aumento percentual, x , dado por

$$\begin{array}{r} 2,00379 \text{ ----- } 100\% \\ 9,01704 \text{ ----- } x \\ x = \frac{9,01704 \times 100}{2,00379} \approx 449,99925 \approx 450\% \end{array}$$

O aumento foi de 450%, aproximadamente.

5.2.

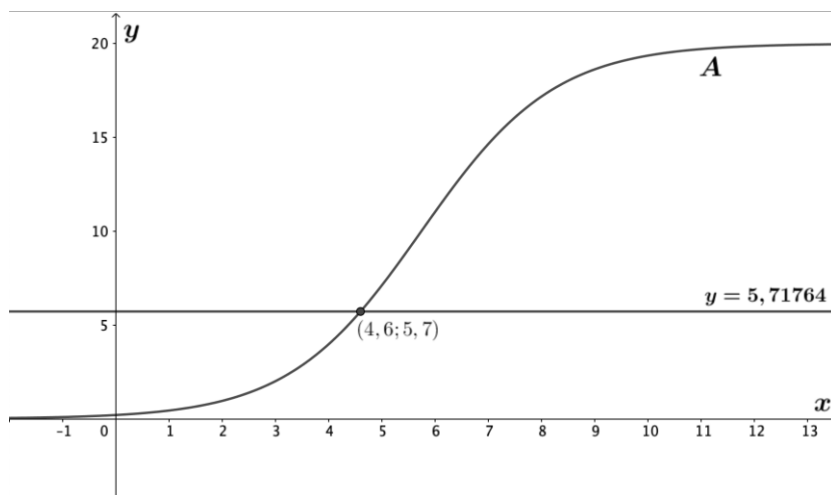
Começamos por determinar o número de peixes no início do ano de 2002:

$$A(2) = \frac{20}{1 + 99e^{-0,8 \times 2}} \approx 0,95294$$

Pretendemos verificar quando é que o número de peixes foi seis vezes superior ao número de peixes de 2002. Assim:

$$n.^\circ \text{ de peixes} = 6 \times 0,95294 = 5,71764$$

Representando graficamente A e a reta $y = 5,71764$ usando as potencialidades de máquina de calcular gráfica, observamos que:



Podemos então concluir que o número de peixes foi seis vezes maior do que o número registado em 2002 durante o ano de 2004.

5.3.

A espécie A de peixes tende a estabilizar o seu número existente no lago em 20 centenas (correspondente a 2000 peixes na totalidade). Assim, segundo o que é descrito no enunciado, já a espécie B tende a atingir o dobro do número de peixes da espécie A ao longo do tempo, ou seja, 4000 peixes na totalidade. Poderemos então eliminar as opções (A) e (B).

Como o ano 2000 corresponde a $t = 0$ na modelação realizada, no caso da espécie B a contagem inicia-se 3 anos antes, em 1997. Ou seja, a representação gráfica que modele a espécie B tem início quando $t = -3$. Logo, elimina-se a opção (C).

Resposta: **Opção D**

6.

Com as informações fornecidas na figura 3, poderemos começar por determinar o número de lugares ocupados por tendas. Assim:

$$n.^\circ \text{ de lugares ocupados por tendas} = 0,7 \times 200 = 140$$

Como sabemos que foram sempre ocupados os mesmos 200 lugares, conseguimos determinar o número de lugares ocupados por automóveis, calculando a seguinte diferença:

$$n.^\circ \text{ de lugares ocupados totais} = 200$$

$$n.^\circ \text{ de lugares ocupados por tendas} = 140$$

$$n.^\circ \text{ de lugares ocupados por autocaravanas} = 20$$

$$n.^\circ \text{ de lugares ocupados por automóveis} = 200 - (140 + 20) = 40$$

Tendo em conta que existem 125 lugares disponíveis para estacionar automóveis no parque, então a percentagem de lugares ocupados por automóveis, relativamente a esse total de 125, é:

$$\text{percentagem de lugares ocupados por automóveis} = \frac{40}{125} \times 100 = 32\%$$

7.

7.1

Amplitude da distribuição das idades em cada uma das alíneas:

$$(A) 30 - 18 = 12 \text{ anos} \quad (B) 31 - 12 = 19 \text{ anos} \quad (C) 39 - 14 = 25 \quad (D) 31 - 12 = 19$$

Só nas alíneas (B) e (D) a amplitude é 19 anos. Destas, só na alínea (B) a média das idades é 20 anos:

$$\frac{2 \times 12 + 2 \times 13 + 3 \times 15 + 20 + 21 + 22 + 2 \times 30 + 2 \times 31}{14} = \frac{280}{14} = 20$$

Resposta: **Opção B**

7.2

Seja x o número de pessoas do grupo B, cuja média de idades é 18 anos.

Sabendo que no grupo A a média das idades das 14 pessoas é 20 anos e que a média das idades da totalidade das pessoas dos dois grupos é 18,7 anos, vem:

$$\begin{aligned} \frac{14 \times 20 + x \times 18}{14 + x} &= 18,7 \\ \Leftrightarrow 280 + 18x &= 18,7(14 + x) \\ \Leftrightarrow 280 + 18x &= 261,8 + 18,7x \\ \Leftrightarrow 280 - 261,8 &= 18,7x - 18x \\ \Leftrightarrow 18,2 &= 0,7x \\ \Leftrightarrow \frac{18,2}{0,7} &= x \\ \Leftrightarrow x &= 26 \end{aligned}$$

O grupo B tem 26 pessoas

8.

8.1

Como 80 clientes usufruíram do bar e da piscina e $\frac{1}{3}$ dos clientes que usufruíram do bar também usufruíram da piscina, então os 80 correspondem a esse terço. Sendo x o número de pessoas que usufruíram do bar, vem:

$$\begin{aligned} 80 &\text{-----} \frac{1}{3} \\ x &\text{-----} 1 \\ x &= 80 \times 1 \div \frac{1}{3} = 240 \end{aligned}$$

Então 240 pessoas usufruíram do bar, logo $300 - 240 = 60$ pessoas usufruíram só da piscina.

Assim, do conjunto dos 300 clientes, $60 + 80 = 140$ clientes usufruíram da piscina.

8.2

Vamos apresentar duas formas de resolver o problema.

1ª Forma de resolução:

Considerando a experiência aleatória que consiste em escolher, ao acaso, um dos clientes do parque de campismo na altura do ano considerada, e os acontecimentos:

E : «O cliente é estrangeiro»

T : «O cliente usufrui da piscina »

Temos, de acordo com o enunciado, que:

$$P(E) = 0,6$$

$$P(\bar{T} \cap E) = 0,3$$

$$P(\bar{T} | \bar{E}) = 0,8$$

Queremos determinar $P(T)$.

Temos que $P(\bar{T}) = P(\bar{T} \cap E) + P(\bar{T} \cap \bar{E})$

$$\text{Sabemos que } P(\bar{T} | \bar{E}) = \frac{P(\bar{T} \cap \bar{E})}{P(\bar{E})}$$

Sabemos também que $P(\bar{E}) = 1 - P(E) = 1 - 0,6 = 0,4$

Assim, $P(\bar{T} \cap \bar{E}) = P(\bar{T} | \bar{E}) \times P(\bar{E}) = 0,8 \times 0,4 = 0,32$.

Logo $P(\bar{T}) = P(\bar{T} \cap E) + P(\bar{T} \cap \bar{E}) = 0,3 + 0,32 = 0,62$.

Concluimos assim que $P(T) = 1 - P(\bar{T}) = 1 - 0,62 = 0,38$.

	E	\bar{E}	
T			0,38
\bar{T}	0,3	0,32	0,62
	0,6	0,4	1

2ª Forma de resolução:

Considere-se os seguintes acontecimentos:

E : “o cliente é estrangeiro”

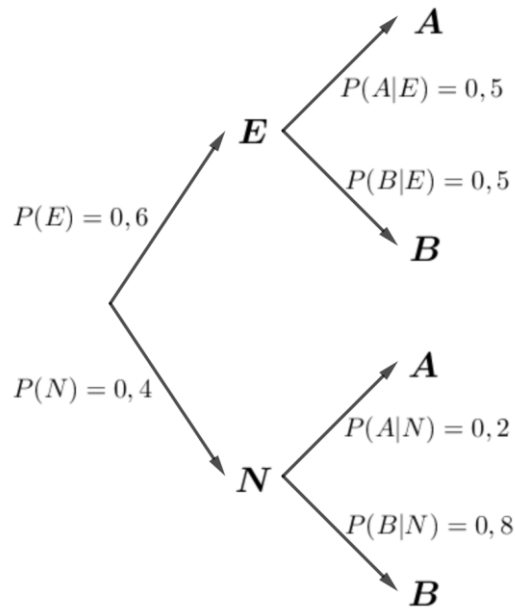
N : “o cliente é nacional”

A : “o cliente usufruiu de piscina”

B : “o cliente não usufruiu de piscina”

Poderá esquematizar-se a informação da seguinte forma:

$$P(E \cap B) = 0,3 \Leftrightarrow 0,6 \times P(B|E) = 0,3 \Leftrightarrow P(B|E) = \frac{0,3}{0,6} \Leftrightarrow P(B|E) = 0,5$$



Logo:

$$P(A) = P(E) \times P(A|E) + P(N) \times P(A|N) = 0,6 \times 0,5 + 0,4 \times 0,2 = 0,38$$

9.

A amostra tem dimensão n superior a 30.

O nível de confiança de 90% é associado ao valor $z \approx 1,645$

Amplitude do intervalo de confiança = 0,3619

Desvio padrão amostral é $s = 5,5$ anos

Considerando o intervalo de confiança para a média

$$\left[\bar{X} - z \frac{s}{\sqrt{n}}; \bar{X} + z \frac{s}{\sqrt{n}} \right]$$

Temos que a amplitude é: $2z \frac{s}{\sqrt{n}}$

Assim, igualando a expressão da amplitude ao valor dado, substituindo os valores de z e s e resolvendo a equação em ordem a n , temos:

$$2z \frac{s}{\sqrt{n}} = 0,3619 \Leftrightarrow \frac{2 \times 1,642 \times 5,5}{0,3619} = \sqrt{n} \Leftrightarrow 50^2 = n \Leftrightarrow 2500 = n$$

A dimensão da amostra foi de 2500 campistas.