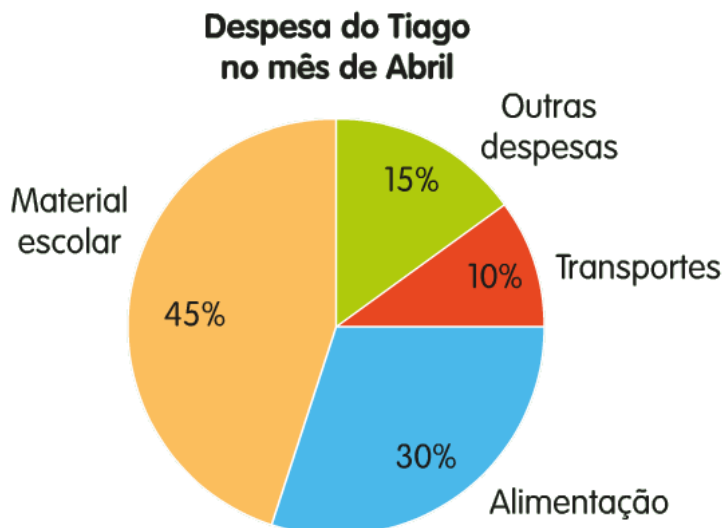


Ficha de Trabalho

Gráfico circular

1

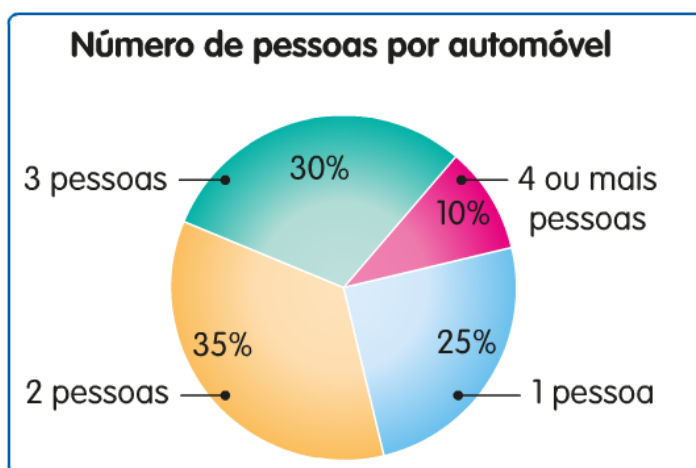


O Tiago gastou 220 euros em abril, dos quais

- A** 45 euros em material escolar.
- B** 50 euros em transportes.
- C** 66 euros em alimentação.
- D** 30 euros em outras despesas.

2

O gráfico refere-se ao número de pessoas por automóvel, em 200 automóveis observados.

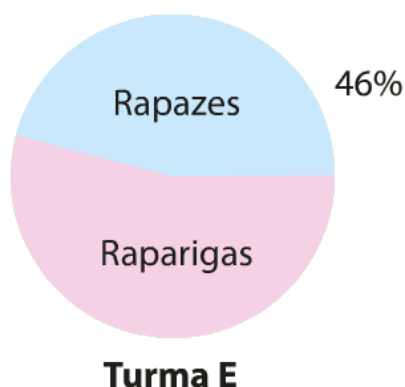
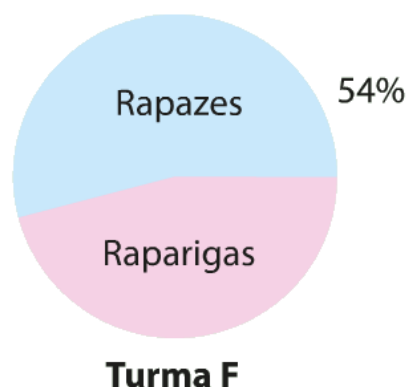


- a)** Quantos carros levavam
 - só uma pessoa?
 - duas pessoas?
 - quatro ou mais pessoas?
- b)** Calcula a amplitude do ângulo de cada um dos quatro setores.

Ficha de Trabalho

3

Os gráficos seguintes representam a distribuição dos rapazes e das raparigas em duas turmas, E e F.

**Turma E****Turma F**

Depois de analisares os dois gráficos podes afirmar que:

- A** Na turma E há mais raparigas do que na turma F.
- B** Na turma F há mais rapazes do que na turma E.
- C** As turmas E e F têm igual número de alunos.
- D** Na turma E, mais de metade dos alunos são raparigas.

4

A Andreia decidiu realizar um inquérito aos 20 alunos da sua turma sobre o tema "Sabor de gelado favorito". Sabe-se que 4 responderam baunilha, metade respondeu chocolate e os restantes responderam caramelo. Elabora um gráfico circular, com as percentagens de cada uma dessas respostas.