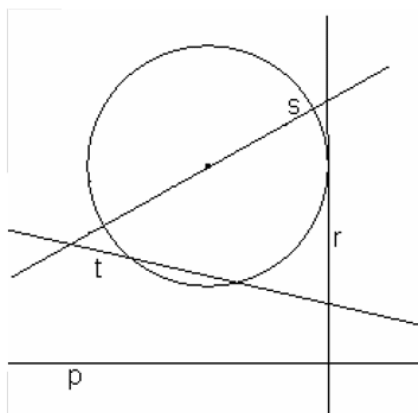


Exercício nº 534

Observa a seguinte figura:



Das retas representadas na figura, qual é tangente à circunferência:

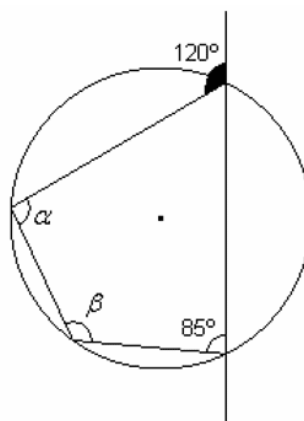
- (A) p (B) r (C) s (D) t

Exercício nº 535

Observa a seguinte figura:

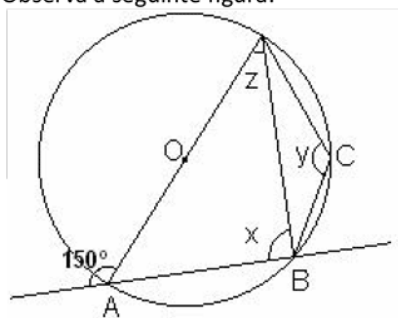
Qual a amplitude dos ângulos α e β ?

- (A) $\alpha = 120^\circ$ e $\beta = 85^\circ$
 (B) $\alpha = 85^\circ$ e $\beta = 95^\circ$
 (C) $\alpha = 95^\circ$ e $\beta = 120^\circ$
 (D) $\alpha = 120^\circ$ e $\beta = 95^\circ$



Exercício nº 536

Observa a seguinte figura:



Qual a amplitude dos ângulos x , y e z ?

- (A) $x = 90^\circ, y = 150^\circ, z = 30^\circ$
 (B) $x = 90^\circ, y = 150^\circ, z = 60^\circ$
 (C) $x = 45^\circ, y = 60^\circ, z = 75^\circ$
 (D) $x = 45^\circ, y = 60^\circ, z = 30^\circ$