

Exercício nº 314

A figura 4 apresenta um pormenor arquitectónico da casa do Cipreste, de Raul Lino, em Sintra.

Na figura 5, estão a representação geométrica de parte do pormenor arquitectónico e o vector \vec{v} .




Fig. 4

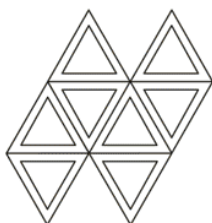


Fig. 5


Em qual das alternativas seguintes estão representadas a figura 5 e a imagem dessa figura através da translação associada ao vector \vec{v} ?

Escreve, na folha de respostas, a letra da alternativa correcta.

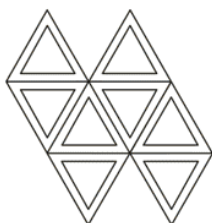
(A)



(B)



(C)



(D)

