

Exercício nº 408

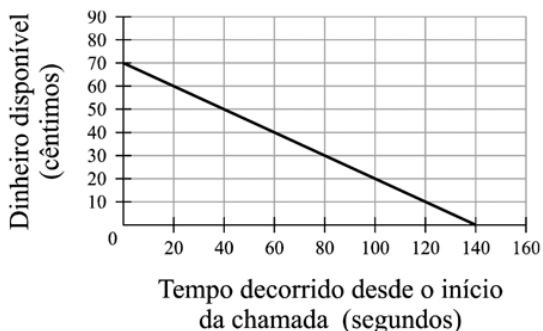
Para efectuar chamadas do seu telemóvel, para duas redes (*A* e *B*), o preço, em **cêntimos**, que o Paulo tem a pagar **por cada segundo** de duração de uma chamada é o seguinte:

Rede	Preço por segundo (em cêntimos)
<i>A</i>	0,5
<i>B</i>	0,6

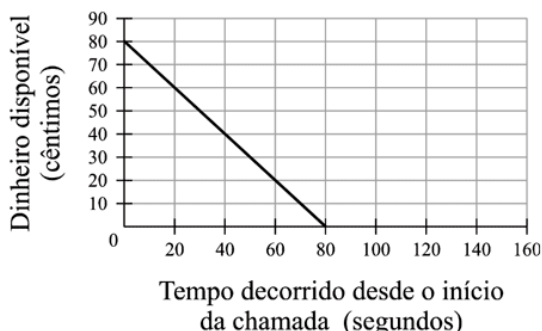
O Paulo tem 80 cêntimos disponíveis para efectuar chamadas do seu telemóvel. Após ter iniciado uma chamada **para a rede *A***, o dinheiro disponível foi diminuindo, até ser gasto na sua totalidade.

Qual dos quatro gráficos que se seguem representa esta situação?

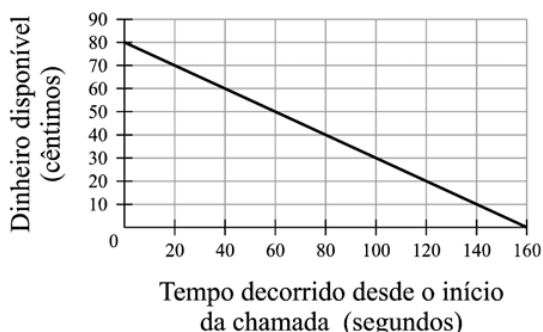
A Gráfico A



B Gráfico B



C Gráfico C



D Gráfico D

