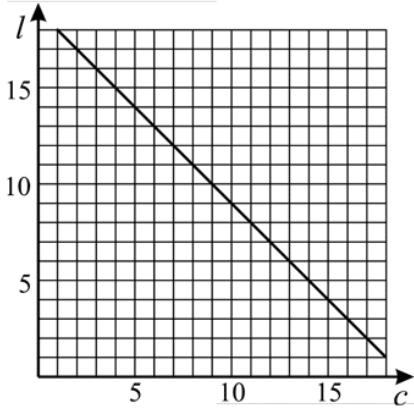


Exercício nº 388

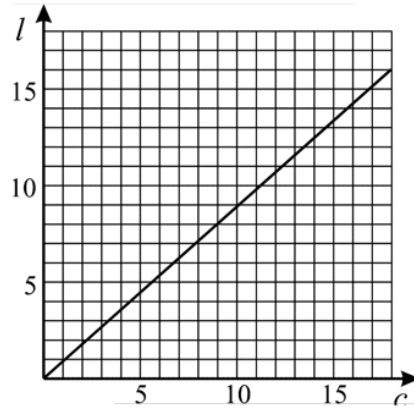
Existem vários rectângulos, de dimensões diferentes, com 18 cm^2 de área.

Qual dos gráficos seguintes pode representar a relação entre a largura (l) e o comprimento (c) de rectângulos com 18 cm^2 de área?

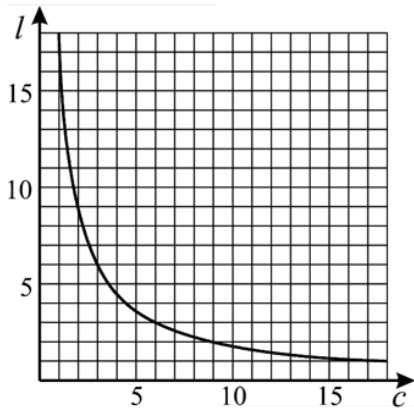
A Gráfico A



B Gráfico B



C Gráfico C



D Gráfico D

